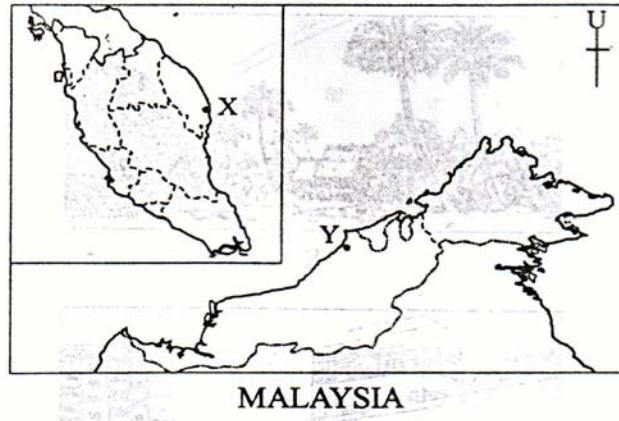


Soalan Formatif

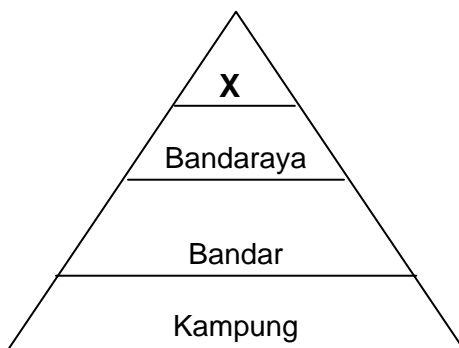
Fungsi Petempatan Bandar

Soalan 1 berdasarkan peta di bawah



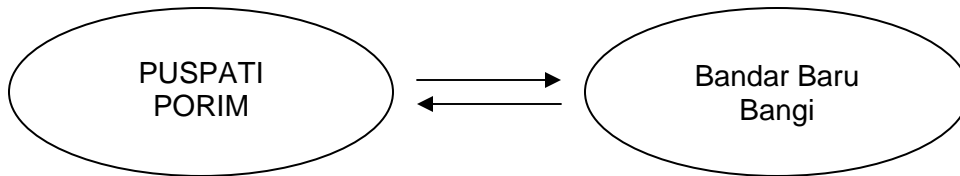
- 1 Perkembangan bandar X dan Y di atas dapat dikaitkan dengan
- A arang batu
 - B emas
 - C kuprum
 - D petroleum

Soalan 2 berdasarkan gambar rajah di bawah



- 2 X dalam hierarki petempatan di Malaysia, mungkin sekali didapati di
- A Alor Setar
 - B Putrajaya
 - C Kuching
 - D Kuala Lumpur

Soalan 3 berdasarkan rajah di bawah



3 Bandar tersebut berperanan sebagai

- I Pusat penyelidikan
- II Pusat pendidikan
- III Pusat pentadbiran
- IV Pusat pelancongan

- A I dan II
- B II dan III
- C III dan IV
- D I dan IV

4 Bandar – bandar di atas wujud kerana kegiatan

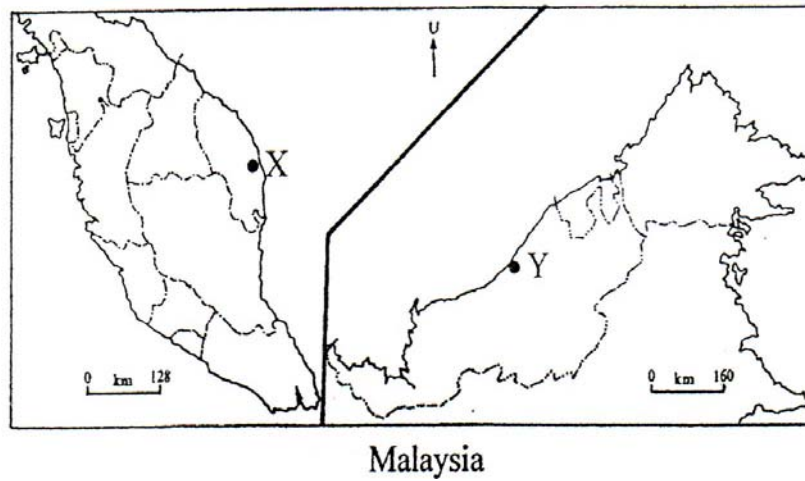
- A pertanian
- B perindustrian
- C pelancongan
- D perlombongan

5 Bandaraya Ipoh berfungsi sebagai

- I pusat pentadbiran
- II pusat pelancongan
- III pusat perikanan
- IV pusat pembalakan

- A I dan II
- B II dan III
- C III dan IV
- D I dan IV

Soalan 6 berdasarkan peta di bawah



6 Apakah kegiatan yang mempengaruhi perkembangan bandar X dan Y ?

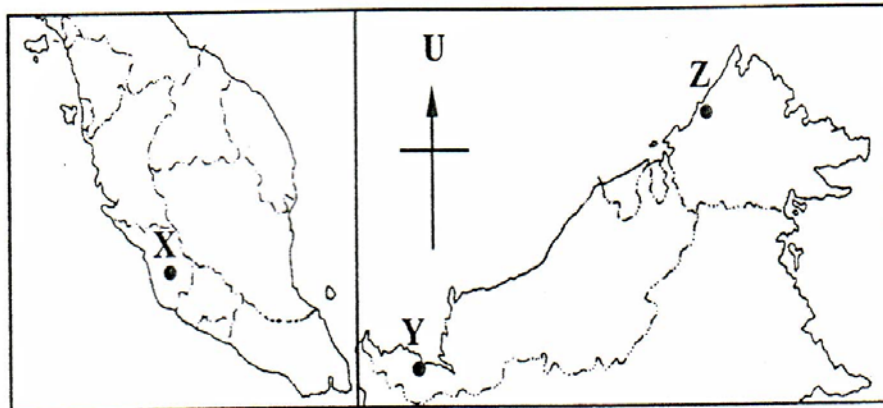
- A Industri kampung
- B Kegiatan pelancongan
- C Perlombongan petroleum
- D Kegiatan perikanan

- Bandar Baru Bangi
- Sintok, Kedah
- Skudai, Johor

7 Bandar – bandar di atas mempunyai persamaan fungsi sebagai

- A bandar pendidikan
- B bandar perindustrian
- C bandar pentadbiran
- D bandar di raja

Soalan 8 berdasarkan peta di bawah



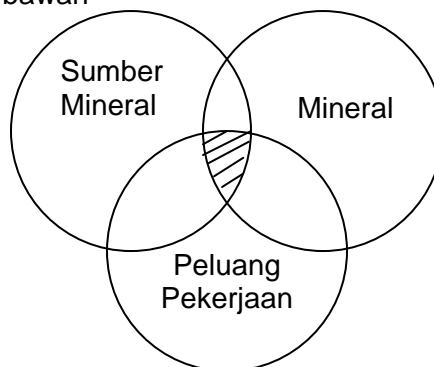
MALAYSIA

8 Bandar – bandar yang bertanda dalam peta mempunyai persamaan fungsi sebagai pusat

- I perikanan
- II pentadbiran
- III pelancongan
- IV perlombongan

- A I dan II
- B II dan III
- C III dan IV
- D I dan IV

Soalan 9 berdasarkan rajah di bawah



9 Proses pembedaran di kawasan berlorek merujuk kepada kepada bandar

- A Johor Baharu
- B Port Dickson
- C Pulau Pinang
- D Kerteh

Soalan 10 berdasarkan jadual di bawah

10 Berdasarkan jadual, manakah kenyataan yang benar ?

Bandar		Fungsi
I	Lumut	Bandar industri
II	Kuala Rompin	Bandar perlombongan
III	Pekan	Bandar Diraja
IV	Klang	Bandar pelabuhan

A I dan III
B II dan III

C III dan IV
D I dan IV