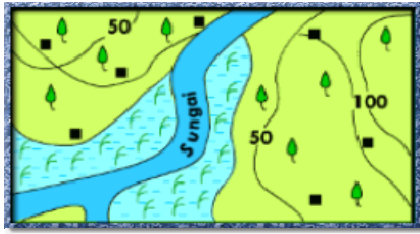


## Pola petempatan



- Antara berikut manakah yang berkaitan dengan pola petempatan seperti rajah di atas
  - Pertanian kebun kecil
  - Rumah tidak tersusun
  - Infrastruktur lengkap
  - Dasar kerajaan
  - I dan II
  - II dan III
  - III dan IV
  - I dan IV

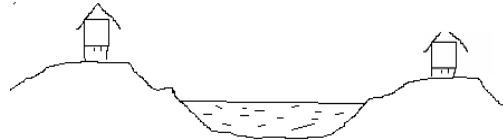


- Pola petempatan seperti dalam rajah di atas terdapat di kawasan
  - Pinggir pantai
  - Dusun buah-buahan
  - Kampung air
  - Perlombongan




- Apakah faktor utama yang mempengaruhi perubahan di atas?
  - Dasar kerajaan
  - Iklim
  - Bentuk muka bumi
  - Jenis tanah
- Antara berikut, kombinasi manakah yang benar?
 

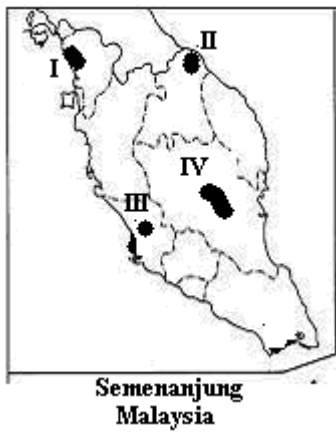
|   | Pola petempatan | Contoh            |
|---|-----------------|-------------------|
| A | Berpusat        | Kebun kecil getah |
| B | Berselerak      | Tanah Rancangan   |
| C | Berkelompok     | Bandaraya         |
| D | Berjajar        | Pinggir pantai    |



- Faktor utama petempatan dibina di dalam gambar diatas ialah
  - Mengelakkan kejadian banjir
  - Mengelakkan hakisan tanah
  - Kos pembinaan yang murah
  - Bekalan protein



6. Apakah ciri-ciri petempatan di kebun kecil seperti yang ditunjukkan di atas?
- I Berhampiran kaki bukit yang subur
  - II Pola petempatan yang berselerak
  - III Rumah berdekatan antara satu sama lain
  - IV Jaringan pengangkutan yang subur
- A. I dan II  
B. II dan III  
C. III dan IV  
D. I dan IV



7. Berdasarkan peta di atas, petempatan luar bandar manakah wujud kerana dasar kerajaan?
- A. I  
B. II  
C. III  
D. IV