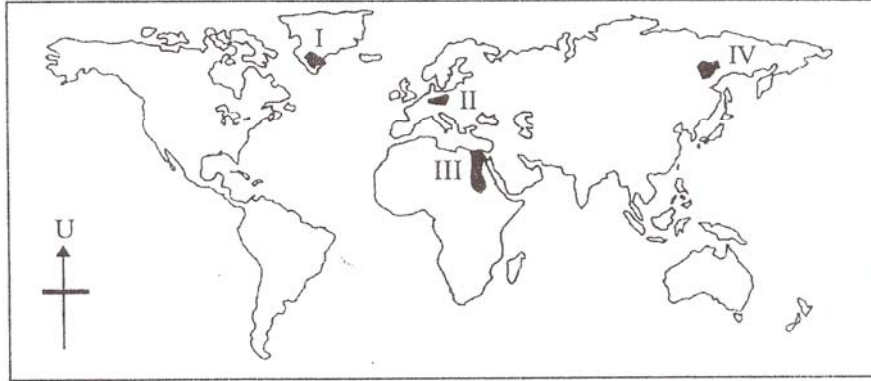


## Soalan objektif



PETA DUNIA

### Lokasi petempatan awal

- Lembah Bujang
- Kota Tampan

1 Lokasi di atas mempunyai persamaan dengan kawasan peta yang bertanda

- A I
- B II
- C III
- D IV

2 Mengapakah petempatan awal manusia bermula di lembah sungai?

- A Keselamatan terjamin
- B Kekurangan teknologi
- C Tanah yang subur
- D Iklim yang sesuai

Soalan 3 berdasarkan maklumat di bawah.

- Jalan diturap
- Bangunan konkrit dibina rapat-rapat

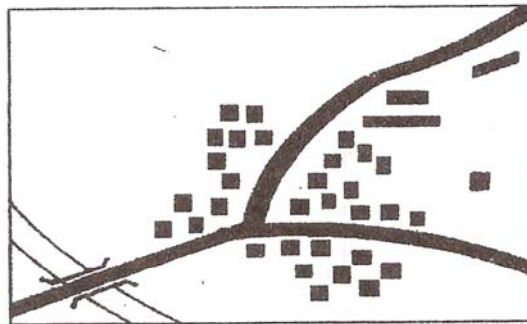
### Bandar X

3 Apakah kesan ciri bandar X terhadap alam sekitar?

- A Jerebu
- B Hujan asid
- C Pulau haba
- D Penipisan ozon


- 4 Bandar-bandar yang bertanda dalam peta mempunyai persamaan fungsi sebagai pusat
- I perikanan
  - II pentadbiran
  - III pelancongan
  - IV perlombongan
- A I dan II
  - B II dan III
  - C III dan IV
  - D I dan IV

Soalan berdasarkan gambar rajah di bawah.



- 5 Apakah jenis pola petempatan yang ditunjukkan dalam gambar rajah di atas?
- A Berjajar
  - B Berpusat
  - C Berselerak
  - D Berkelompok

Soalan 6 berdasarkan gambar di bawah.



Tahun 1950-an

Perubahan



Tahun 2000


- 6 Berdasarkan gambar di atas apakah kesan perubahan tersebut terhadap cuaca tempatan?
- A Suhu meningkat
  - B Jumlah hujan berkurang
  - C Litupan awan berkurang
  - D Kelembapan udara meningkat

Soalan 7 berdasarkan maklumat di bawah.

- Prai
- Shah Alam

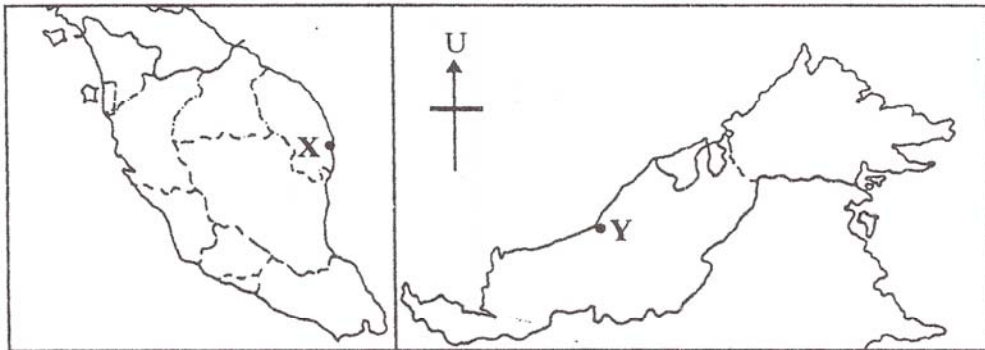
- 7 Apakah faktor yang mempengaruhi kepadatan penduduk kawasan di atas?
- A Pendidikan
  - B Perindustrian
  - C Perlombongan
  - D Pelancongan

Soalan 8 berdasarkan peta di bawah.



MALAYSIA

- 8 Apakah kesan migrasi kepada kawasan berlorek di atas?
- A Hasil pertanian bertambah
  - B Kadar upah buruh meningkat
  - C Pertambahan peluang pekerjaan
  - D Bekalan tenaga buruh meningkat



MALAYSIA

- 9 Apakah faktor perkembangan petempatan di kawasan yang bertanda X dan Y dalam peta di atas?
- A Pertanian
  - B Perikanan
  - C Pembalakan
  - D Perlombongan