

SOALAN FORMATIF

Soalan berikut berdasarkan maklumat di bawah.

- | |
|---|
| <ul style="list-style-type: none">• Alor Setar• Kota Bharu |
|---|

1. Bandar di atas mempunyai penduduk yang padat kerana?

- I** Migrasi dari luar bandar
- II** Kemudahan pengangkutan
- III** Sumber mineral
- IV** Pusat perikanan

- A** I dan II
- B** II dan III
- C** III dan IV
- D** I dan IV

Jawapan : A

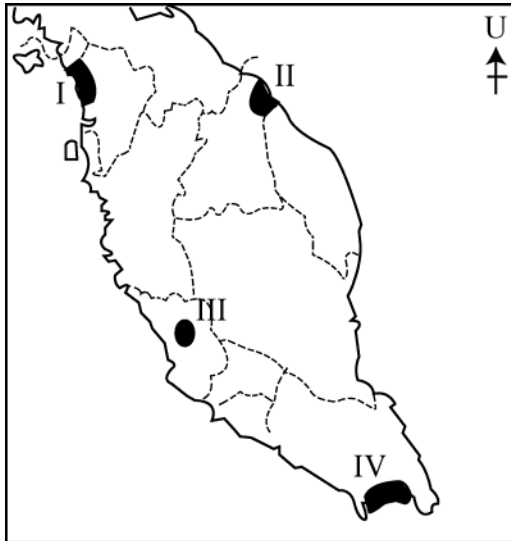
2. Antara yang berikut, faktor manakah yang mempengaruhi taburan penduduk di Malaysia?

- I** Bentuk muka bumi
- II** Kesuburan tanah
- III** Taburan mineral
- IV** Taburan hujan

- A** I, II dan III
- B** I, II dan IV
- C** I,III dan IV
- D** II, III dan IV

Jawapan : A

Soalan berikut berdasarkan peta di bawah.



3.
 - Kepadatan penduduk tinggi
 - Aktiviti utama ialah perindustrian

Pernyataan di atas merujuk kawasan yang bertanda?

- A I dan II
- B II dan III
- C III dan IV
- D I dan IV

Jawapan : C

Soalan berikut berdasarkan peta di bawah.



4. Apakah faktor utama yang mempengaruhi kepadatan penduduk tinggi di kawasan berlorek?

- I** Pusat pertanian
- II** Peluang pekerjaan
- III** Pusat pentadbiran
- IV** Pusat ekopelancongan

- A** I dan II
- B** II dan III
- C** III dan IV
- D** I dan IV

Jawapan : B

5. Mengapakah taburan penduduk di kawasan pedalaman Sabah dan Sarawak jarang?

- A** Kekurangan sumber alam
- B** Kos hidup yang tinggi
- C** Muka bumi bergunung-ganang
- D** Kawasan paya air tawar

Jawapan : C

Soalan berikut berdasarkan maklumat di bawah.

- | |
|---|
| <ul style="list-style-type: none">• Penduduk bertumpu di kawasan ini kerana tanah yang subur• Hujan maksimum diterima pada bulan November dan Disember• Aktiviti utama ialah pertanian dan menangkap ikan |
|---|

6. Maklumat di atas menerangkan kawasan ?

- A** Delta Segama
- B** Dataran Kedah
- C** Delta Kelantan
- D** Dataran Rajang

Jawapan : C

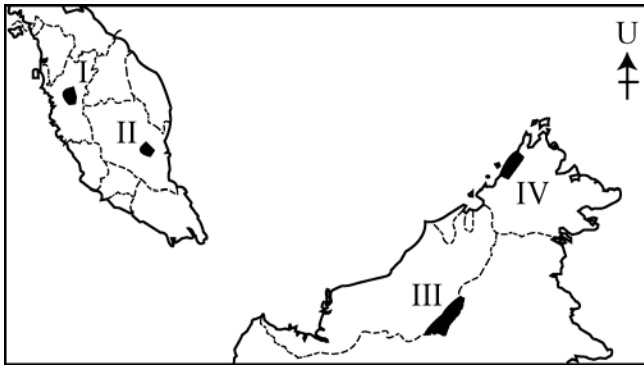
7. Antara berikut, kawasan manakah mempunyai kepadatan penduduk melebihi 200 orang sekilometer persegi?

- I** Lembah Kinta
- II** Samarahan
- III** Teluk Intan
- IV** Kota Bahru

- A I dan II
- B II dan III
- C III dan IV
- D I dan IV

Jawapan : D

Soalan berikut berdasarkan peta di bawah.



Penduduk jarang kerana terpencil dan berpayau.

8. Pernyataan di atas menerangkan kawasan yang bertanda?

- A I
- B II
- C III
- D IV

Jawapan : B

Soalan berikut berdasarkan peta di bawah.



9. Antara yang berikut, manakah faktor yang mempengaruhi kawasan berlorek mempunyai penduduk lebih padat?

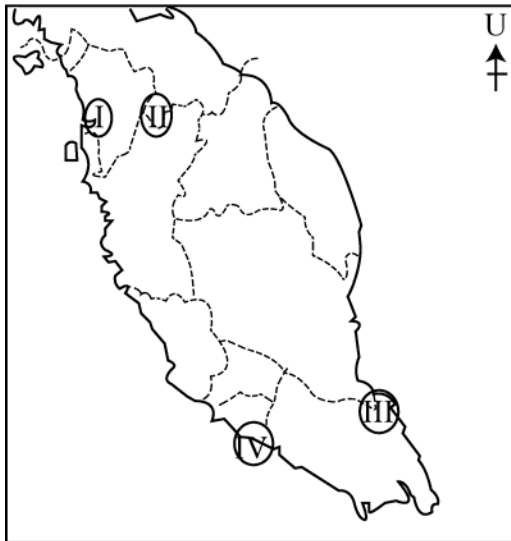
- I Keadaan politik stabil
- II Tumpuan Bandar-bandar besar

- III Peluang pekerjaan banyak
- IV Kawasan perindustrian utama

- A I, II dan III
- B I, II dan IV
- C I,III dan IV
- D II, III dan IV

Jawapan : D

Soalan berikut berdasarkan peta di bawah.



10. Kawasan manakah yang mempunyai penduduk sederhana padat?

- A I dan II
- B II dan III
- C III dan IV
- D I dan IV

Jawapan : B